

FORMACIÓN CIUDADANA ZAPANDÍ 02-2019

SELECCIÓN ÚNICA

55 ÍTEMS


1) Lea la siguiente información:

- Es un escrito que contiene las ideas del partido.
- Contiene el plan de trabajo que los candidatos dan a conocer al electorado en caso de quedar electos.
- Con este documento se pretende informar sobre la labor administrativa y política que se seguirá durante su gobierno.

La información anterior permite identificar el proceso que se lleva a cabo para la elección del gobierno estudiantil denominado

- A) debate público.
- B) campaña electoral.
- C) propaganda política.
- D) programa de gobierno.

2) Lea el siguiente esquema:



- Busca el poder mediante la selección de líderes.
- Agrupación ideológica que accede al gobierno para poner en práctica sus ideas y proyectos.

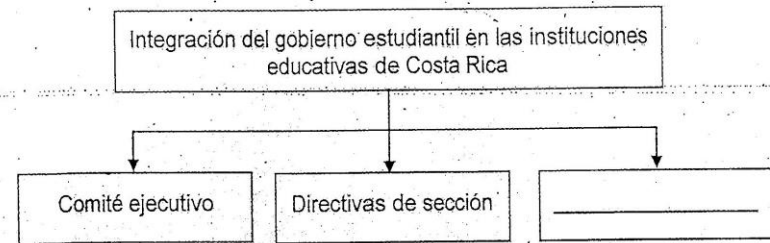
¿Cuál opción completa correctamente el esquema anterior?

- A) Partido político
- B) Grupo dirigente
- C) Proceso electoral
- D) Consejo de profesores

3) ¿Cuál es una función del tribunal electoral estudiantil?

- A) Elegir a los candidatos para el proceso electoral.
- B) Otorgar las becas para los estudiantes de escasos recursos.
- C) Nombrar a los delegados para que participen en el proceso electoral.
- D) Resolver los problemas de abstencionismo y ausentismo durante las elecciones escolares.

4) Lea el siguiente esquema:



¿Cuál opción completa correctamente el esquema anterior?

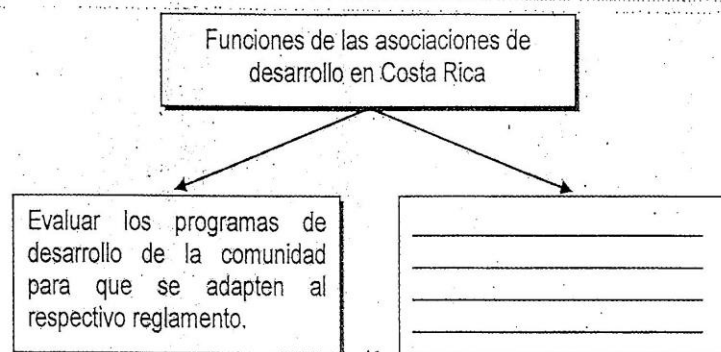
- A) Registro electoral
- B) Consejo de profesores
- C) Tribunal Electoral Estudiantil
- D) Asamblea de Representantes

5) Los partidos políticos que desean inscribirse para el proceso electoral estudiantil en Costa Rica, deben cumplir una serie de requisitos, entre ellos

- A) disponer de suficientes fondos económicos para financiarse la campaña electoral.
- B) presentar por escrito los programas de estudio que desean implementar en la institución.
- C) poseer el visto bueno de al menos el 10% del personal docente del centro educativo.
- D) contar con un listado sellado por el Tribunal Electoral Estudiantil con la sección, nombre, apellidos y firma de por lo menos el 10% de los electores.

- 6) Los gobiernos locales en Costa Rica desempeñan una serie de funciones de gran trascendencia para la población, ya que son una instancia que propician la participación ciudadana por medio
- de audiencias públicas para discutir los tributos que serán cobrados en el cantón.
 - de la organización de referéndum para resolver la creación de nuevas provincias.
 - de la convocatoria a plebiscitos para analizar y votar la revocatoria del Alcalde Municipal.
 - del establecimiento de decretos para exigir a la ciudadanía que emita su voto sobre temas comunales.

- 7) Lea el siguiente esquema:



¿Cuál opción completa correctamente el esquema anterior?

- Impulsar proyectos destinados a mejorar las políticas educativas de la comunidad y de convivencia familiar.
- Promover la participación activa y organizada de los habitantes en los programas nacionales de desarrollo comunal.
- Fiscalizar el presupuesto de las clínicas de salud comunales para garantizar el adecuado uso de los recursos disponibles.
- Gestionar proyectos de inversión económica en las comunidades con el fin de erradicar las zonas marginales y los problemas sociales.

- 8) En Costa Rica existen una serie de grupos artísticos, deportivos, culturales, entre otros, que desempeñan tareas importantes porque
- contribuyen a que la población joven se involucre en diversos programas con el fin de obtener, específicamente, rentabilidad económica.
 - son los únicos espacios creados que toman en cuenta la participación directa de los jóvenes en proyectos de bienestar social.
 - instan a la población joven a realizar actos ilícitos en beneficio de las comunidades.
 - promueven el trabajo en equipo y el desarrollo de la comunidad en diversos campos.

- 9) El mecanismo de participación ciudadana que contribuye con el desarrollo de la convivencia democrática, al impulsar que la autoridad encargada de tomar una decisión administrativa o legislativa escuche las opiniones de los interesados en un tema particular, promueva la búsqueda de comunes denominadores y trate de llegar al mejor resultado posible, se denomina

- convención.
- deliberación.
- audiencia pública.
- asociación comunal.

- 10) Lea la siguiente información:

Mecanismo que se emplea para realizar reformas constitucionales, para derogar o aprobar posibles proyectos de ley y para consultar la ratificación o rechazo de posibles tratados internacionales.

¿Cuál es el nombre del mecanismo de participación ciudadana al que se refiere la información anterior?

- Cabildo
- Plebiscito
- Referéndum
- Elecciones nacionales

15) Lea la siguiente información:-

Principio de los derechos humanos

- Todas las personas poseen los mismos derechos, sin distinción de edad, sexo, idioma, nacionalidad, religión, condición social y económica, impedimento físico o cualquier otra condición.
- Lléva implícito el respeto por todas las culturas y el rechazo a aquellas prácticas culturales violatorias de los derechos humanos.

¿A cuál principio de los derechos humanos se refiere la información anterior?

- A) Integridad
- B) Indivisibilidad
- C) Universalidad
- D) Interdependencia

16) Lea el siguiente texto:

Los derechos humanos, al ser inherentes al desarrollo y evolución de las personas, se van incrementando con el paso del tiempo con la idea de mejorarlos y ampliarlos en beneficio de todos.

El texto anterior hace referencia al principio de

- A) complementariedad.
- B) inviolabilidad.
- C) temporalidad.
- D) complejidad.

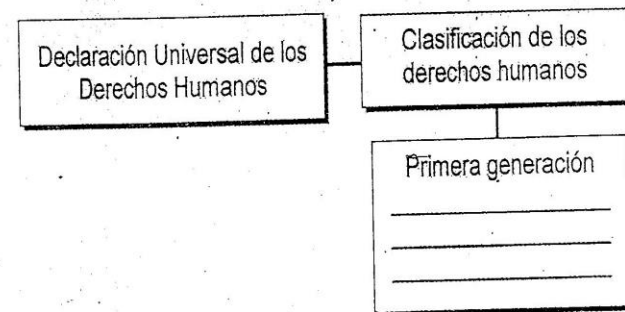
17) Lea las siguientes características:

- Todas las personas tienen derecho al trabajo en condiciones equitativas y satisfactorias.
- Toda persona tiene derecho a la educación en sus diversas modalidades.
- Toda persona tiene derecho a la salud física y mental.

¿A cuál generación de los derechos humanos hacen referencia las características anteriores?

- A) Segunda
- B) Primera
- C) Tercera
- D) Cuarta

18) Lea el siguiente esquema:



¿Cuál opción completa correctamente el esquema anterior?

- A) Civiles y políticos
- B) Económicos y sociales
- C) Culturales y educativos
- D) Ambientales y de desarrollo sostenible

19) Lea la siguiente información:

Como parte de la Convención Sobre la Eliminación de Todas las Formas de Discriminación Contra las Mujeres, los Estados se comprometen a adoptar todas las medidas apropiadas, incluso de carácter legislativo y medidas especiales, a fin de que las mujeres puedan disfrutar de todos sus derechos y de las libertades fundamentales.

La Convención a la que se refiere la información anterior busca, entre otras cosas,

- A) crear tribunales para garantizar la protección deficiente de la mujer contra la discriminación en cualquier campo en la que se desenvuelve.
- B) legalizar los actos de discriminación contra la mujer por parte de personas, organizaciones o empresas.
- C) garantizar a las mujeres la igualdad de acceso y de oportunidades en la vida política y pública.
- D) abolir todas las leyes que promueven la equidad social entre hombres y mujeres.

20) Lea el siguiente esquema:

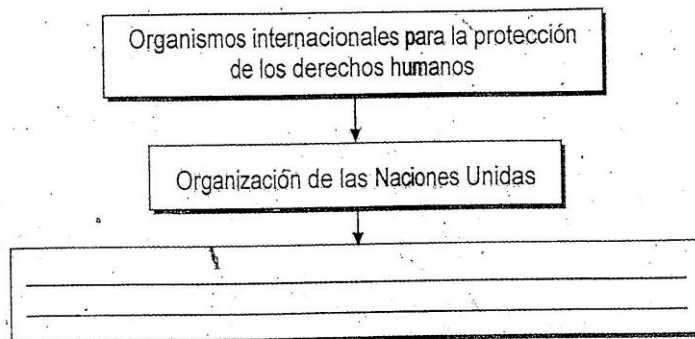
Ley General de la Persona Joven en Costa Rica
Capítulo III

- Garantizar la educación en iguales condiciones de calidad y del más alto nivel para todas las personas jóvenes.
- Fomentar la permanencia de las personas jóvenes en su núcleo familiar y comunitario.
- _____

¿Cuál opción completa correctamente el esquema anterior?

- A) Impulsar campañas para promover la deserción laboral de las personas jóvenes en los sectores público y privado.
- B) Desestimular a las personas jóvenes de ingresar y permanecer en los programas de Educación General Básica.
- C) Organizar grupos exclusivos para personas jóvenes en las cabeceras de cantón.
- D) Promover medidas de apoyo para las personas jóvenes con discapacidad.

21) Lea el siguiente esquema:



¿Cuál opción completa correctamente el esquema anterior?

- A) Procura mantener la paz y la seguridad internacional.
- B) Garantiza la supervivencia de los refugiados a nivel mundial.
- C) Orienta el desarrollo comercial y económico de las naciones.
- D) Mantiene unidas a todas las naciones del mundo en una sola ideología política.

22) El organismo cuyos integrantes son electos por la Asamblea General de la Organización de Estados Americanos, cuya sede está en Costa Rica y sus fallos son definitivos e inapelables, recibe el nombre de

- A) Comisión Internacional de las Naciones y de los Pueblos.
- B) Corte Interamericana de Derechos Humanos.
- C) Comisión Interamericana de la Mujer.
- D) Corte de Justicia Internacional.

23) ¿Cuál es un derecho humano de primera generación contemplado en la Constitución Política de Costa Rica?

- A) El establecimiento de convenciones colectivas de trabajo.
- B) Ninguna persona puede ser reducida a prisión por deuda.
- C) El acceso a las comunicaciones personales de los habitantes.
- D) El derecho que tienen las personas de asociarse con fines ilícitos.

24) Lea los siguientes derechos:

1. Se permite toda calificación personal sobre la naturaleza de la filiación.
2. El trabajo es un derecho del individuo y una obligación con la sociedad.
3. Tanto los trabajadores como los patronos podrán sindicalizarse libremente.
4. Todo trabajador tendrá derecho a un día de descanso después de siete días de trabajo consecutivo.

¿Cuáles números de los anteriores identifican dos derechos humanos de segunda generación establecidos en la Constitución Política de Costa Rica?

- A) 1 y 2
- B) 1 y 4
- C) 2 y 3
- D) 3 y 4

25) Lea el siguiente caso:

Johana y Sofía realizan una exposición en su salón de clase, en donde explican la idea de que el salario será siempre igual para trabajo igual en idénticas condiciones de eficiencia. Es decir, la igualdad salarial se encuentra contemplada bajo la premisa de que a una misma categoría corresponde un mismo salario sin importar el género.

De acuerdo con el caso anterior, ¿cuál es un derecho humano establecido en la Constitución Política de Costa Rica?

- A) El trabajo en condiciones equitativas y satisfactorias
- B) La educación empresarial
- C) La negociación colectiva
- D) La seguridad individual

26) Lea los siguientes derechos:

1. Igualdad de derechos entre los cónyuges.
2. La vida de cualquier persona es inviolable.
3. Toda persona tiene derecho a recibir un salario justo.
4. Los habitantes tienen derecho de asociarse para fines lícitos.

¿Cuáles números de los anteriores identifican dos derechos humanos de primera generación establecidos en la Constitución Política de Costa Rica?

- A) 1 y 2
- B) 1 y 3
- C) 2 y 4
- D) 3 y 4

27) Los derechos humanos correspondientes a la tercera generación aparecen en el siglo XX como respuesta a los retos de la globalización. Un ejemplo de esta generación es el derecho a

- A) la paz y al desarrollo.
- B) tener una vivienda digna y alimento.
- C) la igualdad de los cónyuges y a la libre elección del trabajo.
- D) las convenciones colectivas de trabajo y a la creación de cooperativas.

28) Un aspecto establecido en la Constitución Política de Costa Rica con relación a los Derechos Humanos en materia de educación, se refiere

- A) a que el Estado garantizará la gratuidad de la educación en todos los ciclos, así como en los estudios superiores.
- B) al compromiso del Estado de costear los estudios superiores de todas aquellas personas de escasos recursos.
- C) a la obligación que tiene el Estado de brindar becas a todos los estudiantes de secundaria.
- D) a que el Estado velará por la preparación técnica y cultural de los trabajadores.

29) Lea la siguiente información:

Declaración Universal de Derechos Humanos	
1. Derecho a la libertad: de pensamiento, religión, opinión y expresión de ideas.	2. Justicia social: con la equidad económica, derecho al trabajo y a la salud física y mental.
3. Derecho a la educación: para el desarrollo de la personalidad y debe ser gratuita.	4. A la protección: contra la tortura, las penas y los tratos crueles.

De acuerdo con la información anterior, ¿cuáles números identifican derechos humanos de primera generación?

- A) 1 y 2
- B) 1 y 4
- C) 2 y 3
- D) 3 y 4

30) Lea la siguiente información:

- Los niños, niñas y adolescentes trabajadores tienen una tasa de deserción escolar de 44.1%.
- Se estimó que en Costa Rica un total de 113 523 niños, niñas y adolescentes entre 5 y 17 años realizan actividades remuneradas.

Adaptado de
http://www.inec.go.cr/sites/default/files/documentos/inec_institucional/publicaciones

De acuerdo con la información anterior, ¿cuál es el desafío que debe enfrentar el Estado costarricense?

- A) El aumento de la inequidad social
- B) La erradicación del trabajo infantil
- C) El impulso a la segregación espacial
- D) La elegibilidad para puestos públicos

31) Lea la siguiente información:

Características de los hogares y de las personas con ingreso conocido		
Característica	Hogares más pobres	Hogares más ricos
Hogares con jefatura femenina	36%	24%
Años de escolaridad promedio	6	13
Tasa de desempleo	14%	1%

Fuente: Instituto Nacional de Estadística y Censos. XIV Informe Estado de la Nación 2007

De acuerdo con la información anterior, un desafío del Estado costarricense es el de

- A) disminuir la inequidad.
- B) aumentar la deuda externa estatal.
- C) promover un ambiente libre de drogas.
- D) mejorar el sistema económico internacional.

32) Lea la siguiente información:

Este es un derecho universal esencial para el funcionamiento democrático de las sociedades, así como para el bienestar de toda persona y es parte integrante de la libertad de expresión. Las sociedades quieren transparencia en sus gobiernos, quieren poder acceder a ciertos datos para saber, aprender y tomar decisiones, porque persiguen el desarrollo social, cultural, económico y político que necesitan. En definitiva, es una necesidad social que no se puede impedir. De ahí que sea tan importante para las personas, colectivos y países.

Adaptado de <https://www.comunidadbaratz.com/blog/>

¿A cuál derecho humano de tercera generación al que aspiran los habitantes de Costa Rica se refiere la información anterior?

- A) A la no discriminación
- B) A la información
- C) Al desarrollo
- D) A la paz

33) Lea la siguiente información:

1. A una vida sana, a un ambiente sostenible y al desarrollo personal libre de todo tipo de drogas.

3. Derecho de la ciudadanía a emitir el voto secreto, directo y universal cada cierto período.

2. A la no-discriminación por razones de etnia, género, religión, nacionalidad y orientación sexual.

4. A la libertad de tránsito dentro y fuera del país, sin restricciones por razones políticas o económicas.

De acuerdo con la información anterior, ¿cuáles números distinguen derechos humanos de tercera generación a los cuales aspiran los habitantes de Costa Rica?

- A) 1 y 2
- B) 1 y 3
- C) 2 y 4
- D) 3 y 4

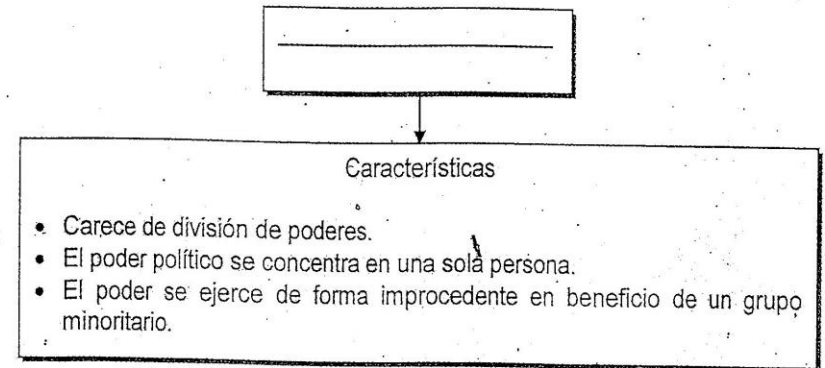
34) Lea el siguiente texto:

Consiste en el ejercicio del poder sobre otros, por una persona que debe estar legitimada por una institución o razón, conforme a una serie de funciones que le son generalmente reconocidas.

El texto anterior hace referencia al concepto de

- A) autoridad.
- B) democracia.
- C) control político.
- D) organización social.

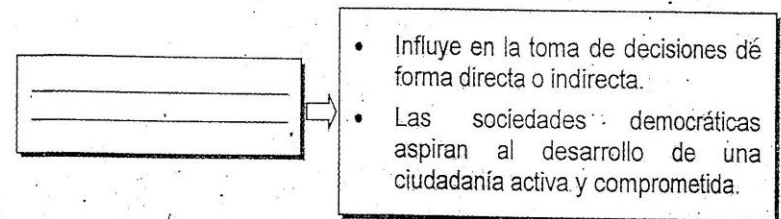
35) Lea el siguiente esquema:



¿Cuál concepto completa correctamente el esquema anterior?

- A) Democracia
- B) Monarquía
- C) República
- D) Dictadura

36) Lea el siguiente esquema:



¿Cuál opción completa correctamente el esquema anterior?

- A) Transparencia gubernamental
- B) Nombramiento ciudadano
- C) Participación ciudadana
- D) Responsabilidad social

37) La democracia griega del siglo V a.C. se caracterizó porque

- A) los ciudadanos eran escuchados en la Asamblea o Ecclesia, constituyéndose en un mecanismo de participación directa.
- B) se permitía la existencia del pluripartidismo, donde cada partido tenía su propia ideología muy marcada.
- C) todos los habitantes sin importar la edad o el sexo, participaban directamente en las decisiones políticas.
- D) tanto hombres como mujeres podían ejercer el derecho al voto.

38) Lea el siguiente texto:

Mecanismo que permite a la ciudadanía buscar soluciones a los principales problemas de la sociedad a la que pertenece, mediante reuniones y asambleas para la toma de decisiones y ejercer control político, así como la utilización del sufragio para la elección de gobernantes o para la votación en un referendo.

El texto anterior hace referencia a la característica de la democracia contemporánea dentro del sistema político costarricense, denominada

- A) congreso privado.
- B) socialización.
- C) participación.
- D) inclusión.

39) Lea el siguiente texto:

El gobierno no puede mantener una política de bienestar a costa de la desigualdad excesiva entre los sujetos económicos, porque pone en peligro los principios fundamentales de los postulados de justicia social, por lo tanto, debe retomar su rol y garantizar una agenda que propicie la equidad y potencie el desarrollo de manera amplia, participativa e incluyente.

El texto anterior hace referencia a características de la democracia contemporánea dentro del sistema político costarricense para fomentar la

- A) igualdad de oportunidades.
- B) representación cultural.
- C) inequidad de género.
- D) segregación política.

40) Lea el siguiente texto:

- Es la designación de responsables para tomar las decisiones principales en nombre de la comunidad política.
- Es una delegación de la soberanía ciudadana fundamentada en la rendición periódica de cuentas.

El texto anterior evidencia dos características de la democracia contemporánea del sistema político costarricense referido a la

- A) responsabilidad social.
- B) política pública.
- C) representación.
- D) participación.

41) Lea el siguiente caso:

Lorena y Miguel Ángel son dos emprendedores que han decidido llevar a cabo un proyecto en común, por esa razón se unieron para poder dedicarse al cultivo y venta de orquídeas para el mercado costarricense, por lo que han realizado todas las gestiones legales para poder obtener los permisos correspondientes.

De acuerdo con el caso anterior, se puede reconocer una condición básica de la democracia costarricense que consiste en la libertad de

- A) comunicación.
- B) asociación.
- C) expresión.
- D) omisión.

42) Lea el siguiente caso:

Juan Diego es un estudiante de secundaria que manifestó ante los miembros del Poder Legislativo de Costa Rica la importancia de defender, buscar, recibir y difundir ideas de manera responsable, lo cual argumenta es un derecho consagrado en el artículo 13 de la Convención Americana sobre Derechos Humanos y que además la Sala Constitucional, ordenó al Estado garantizar el acceso a Internet y a las telecomunicaciones.

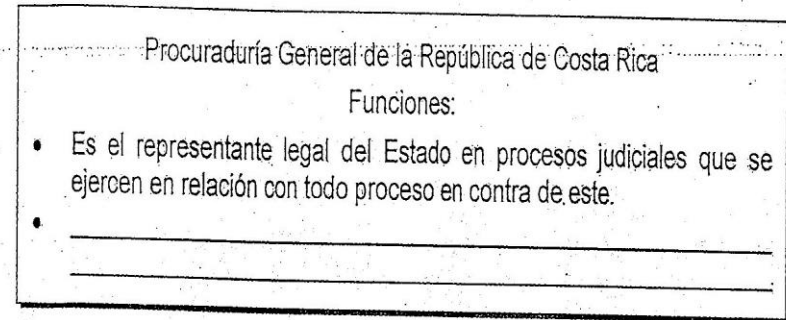
El caso anterior apunta a una de las condiciones básicas de una verdadera democracia al promover el ejercicio pleno de la libertad de

- A) representación.
- B) asociación.
- C) expresión.
- D) tránsito.

43) El principio de legitimidad es fundamental en la democracia costarricense, por eso los candidatos a ocupar puestos políticos durante los procesos electorales deben

- A) ilegitimar los principios básicos del orden constitucional.
- B) propiciar el desarrollo de elecciones libres e imparciales.
- C) promover la coacción como una forma de obtener el apoyo ciudadano.
- D) aferrarse a la arbitrariedad de las instituciones a cargo de dichos procesos.

44) Lea el siguiente esquema:



¿Cuál opción completa correctamente el esquema anterior?

- A) Establece y regula las relaciones comerciales entre Costa Rica y otros países.
- B) Crea los presupuestos de la República con el fin de asegurar el mejor uso de los fondos públicos.
- C) Brinda asesoría personal al Poder Ejecutivo en cada una de las acciones que impliquen convenios comerciales.
- D) Recibe, investiga y da seguimiento a denuncias por supuestos actos de corrupción, en los que estén vinculados funcionarios públicos

45) Lea el siguiente texto:

Se encarga de estudiar las acciones estratégicas del Plan Nacional de Desarrollo, contribuyendo a la promoción de la cultura de rendición de cuentas, al mejoramiento de la gestión en el sector público que derive en la producción de bienes y servicios de mejor calidad, así como en el uso óptimo de los recursos públicos.

El texto anterior identifica a la institución de control democrático en Costa Rica denominada

- A) Ministerio de Economía, Industria y Comercio.
- B) Procuraduría General de la República.
- C) Contraloría General de la República.
- D) Sistema Nacional de Evaluación.

46) La Autoridad Reguladora de los Servicios Públicos de Costa Rica desempeña una serie de funciones importantes, entre ellas

- A) establecer los precios de los productos de la canasta básica.
- B) administrar cada uno de los diversos servicios públicos que se brindan en el país.
- C) atender denuncias por productos de mala calidad y por el incumplimiento de la garantía.
- D) velar por la sostenibilidad de los servicios públicos y garantizar que sean accesibles a la población.

47) Lea el siguiente caso:

Federico labora en una fábrica de textiles hace tres años, pero en los últimos tres meses no le han pagado su salario puntualmente, ante esta situación presentó un recurso de amparo ante la Sala Constitucional en contra del patrono de la fábrica donde trabaja.

De acuerdo con el caso anterior, se puede identificar que la Sala Constitucional tiene la función de

- A) garantizar el respeto de los derechos de la población.
- B) defender los derechos de los empresarios del sector industrial.
- C) fiscalizar que la empresa tenga dinero para cancelar los salarios.
- D) velar porque los trabajadores cumplan con sus funciones laborales.

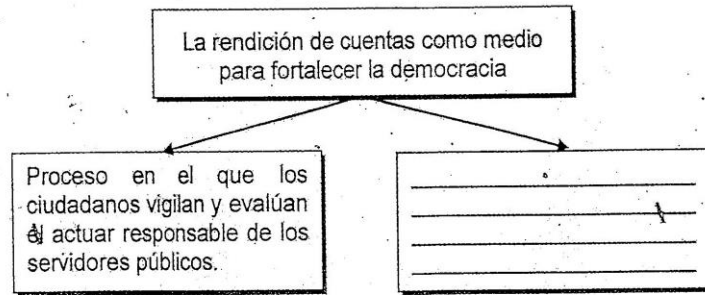
48) La contraloría de servicios es un órgano de control político vertical creado por el Estado costarricense, el cual tiene una serie de funciones, entre ellas

- A) coordinar con la Contraloría General de la República los presupuestos de las instituciones estatales.
- B) supervisar cada una de las municipalidades a fin de garantizar el correcto uso de los fondos públicos.
- C) mejorar la articulación entre los usuarios y funcionarios de la institución pública.
- D) auspiciar la realización de auditorías a cada una de las entidades del Estado.

49) ¿Qué importancia tiene el voto electoral como medio de control político vertical?

- A) Permite desprestigiar los procesos electorales democráticos.
- B) Es el modo legítimo de participar y actuar activamente de la democracia.
- C) Posibilita la participación de cada uno de los habitantes del país en las elecciones nacionales.
- D) Es el único espacio creado para que la ciudadanía participe en la solución de problemas mediante elecciones.

50) Lea el siguiente esquema:



¿Cuál opción completa correctamente el esquema anterior?

- A) Facilita el ejercicio del control social en la gestión pública.
- B) Permite recuperar la ilegitimidad de los servidores públicos.
- C) Establece el manejo inadecuado de los dineros públicos del Estado.
- D) Garantiza el sentido privado de la información de los funcionarios públicos.

51) Lea los siguientes aspectos:

- | |
|------------------------------------------------------------------------------------------------------------------------------------|
| 1. Permite a los partidos políticos inscribir a candidatos inhabilitados por los tribunales para aspirar a ocupar cargos públicos. |
| 2. Brinda información pública de cuentas de gastos generados por funcionarios públicos. |
| 3. Permite la construcción de una sociedad justa y productiva, evitando actos de corrupción. |
| 4. Impide que los servidores públicos actúen acorde con la legislación vigente. |

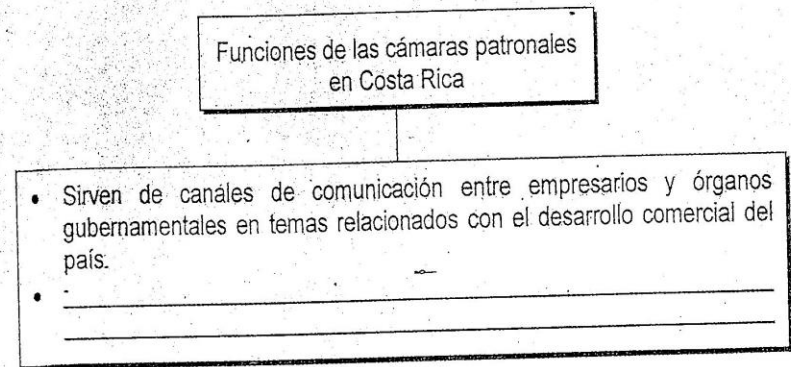
¿Cuáles números de los anteriores identifican dos aspectos relacionados con la transparencia como medio para fortalecer la democracia?

- A) 1 y 2
- B) 1 y 4
- C) 2 y 3
- D) 3 y 4

52) Las organizaciones sociales desempeñan un papel importante para la sociedad costarricense, entre ellas destacan las cooperativas, las cuales se caracterizan por

- A) defender los derechos laborales de sus agremiados para evitar acciones que menoscaben sus intereses.
- B) influir en las operaciones comerciales y bancarias del país para lograr el mejor desarrollo en las exportaciones.
- C) ser la unión de trabajadores y patronos en procura de un mayor desarrollo económico para todos los agremiados.
- D) ser una asociación voluntaria de personas que se organizan para satisfacer necesidades y promover el mejoramiento tanto económico y como social.

53) Lea el siguiente esquema:



¿Cuál opción completa correctamente el esquema anterior?

- A) Son organizaciones de empresarios que velan por las políticas comerciales.
- B) Establecen los acuerdos de libre comercio entre Costa Rica y otras naciones.
- C) Forman las leyes estatales de carácter económico con el propósito de agilizar las actividades comerciales del país.
- D) Resuelven los conflictos y establecen sanciones contra los patronos que incumplan con las normas laborales.

54) Lea la siguiente información:

- Tienen independencia y autonomía.
- Se organizan para llevar a cabo fines sociales de forma lícita.
- Sus funciones están orientadas a completar aquellos rubros en que el Estado requiere de colaboración.

La información anterior se refiere a las organizaciones denominadas

- A) organizaciones no gubernamentales.
- B) instituciones financieras privadas.
- C) colegios profesionales.
- D) sindicatos.

55) Dentro de las características de los partidos políticos en Costa Rica destaca la forma en cómo estos obtienen los recursos económicos para financiarse, los cuales se consiguen por

- A) la cantidad de afiliados que tengan dentro de su agrupación, ya que el Estado reconoce esto como un mecanismo para otorgarles dineros.
- B) la inversión realizada por empresarios a cambio de obtener beneficios comerciales y económicos de dicha agrupación.
- C) el financiamiento otorgado por inversionistas como resultado de sus actividades ilícitas desarrolladas en el país.
- D) el pago de la deuda política que el Estado otorga según la cantidad de votos logrados en las elecciones.

FORMACIÓN CIUDADANA ZAPANDÍ - NOVENO 02-2019 PROF. JORGE E. ROJAS ARIAS



8945-4780

<u>No.</u>	<u>Resp</u>	<u>No.</u>	<u>Resp</u>	<u>No.</u>	<u>Resp</u>	<u>No.</u>	<u>Resp</u>
1.	D	15.	C	29.	B	43.	B
2.	A	16.	C	30.	B	44.	C
3.	C	17.	A	31.	A	45.	D
4.	D	18.	A	32.	B	46.	D
5.	D	19.	C	33.	A	47.	A
6.	C	20.	D	34.	A	48.	C
7.	B	21.	A	35.	D	49.	B
8.	D	22.	B	36.	C	50.	A
9.	C	23.	C	37.	A	51.	C
10.	C	24.	C	38.	C	52.	D
11.	A	25.	A	39.	A	53.	A
12.	A	26.	C	40.	C	54.	A
13.	C	27.	A	41.	B	55.	D
14.	C	28.	D	42.	C		

Para obtener su nota final, debe aplicar la siguiente fórmula:

$$\text{Puntos obtenidos} \times 1.818 = \text{Nota}$$